

Adı : .....

Soyadı: .....

4. Sınıf  
Fen Bilimleri

Kuvvetin Etkileri  
Etkinlikler

Etkinlik

12

Mıknatıs şekillerini çizerek kutuplarını belirleyelim.



U mıknatıs



Çubuk mıknatıs



Dörtgen mıknatıs



Yuvarlak mıknatıs

Etkinlik

13

Mıknatıs tarafından çekilen-çekilmeyen varlıkları yazınız. (çekerek-çekmez)



Mıknatıs Çeken Maddeler

.....	.....
.....	.....
.....	.....
.....	.....

Mıknatıs Çekmeyen Maddeler

.....	.....
.....	.....
.....	.....
.....	.....

Adı : .....

Soyadı: .....

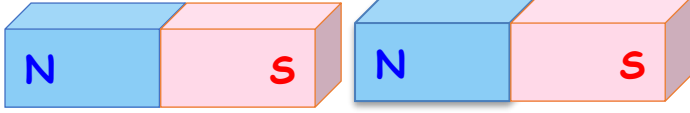
4. Sınıf  
Fen Bilimleri

Kuvvetin Etkileri  
Etkinlikler

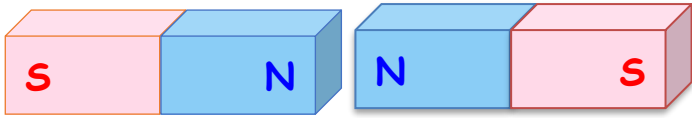
Etkinlik

14

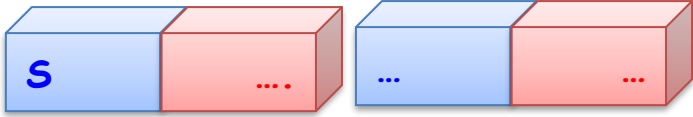
Aşağıdaki mıknatısların durumlarını yazalım. (Not: Renklere değil kutuplara dikkat edelim.)



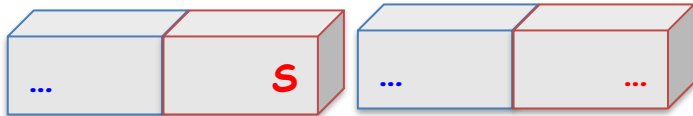
İki mıknatıs birbirini .....  
Çünkü .....



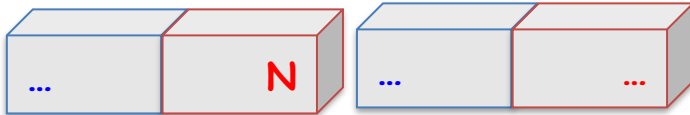
İki mıknatıs birbirini .....  
Çünkü .....



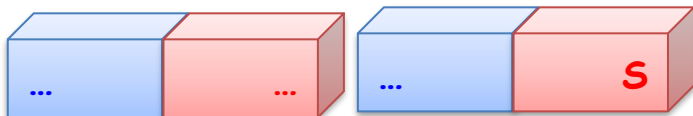
İki mıknatıs birbirini çekmektedir.



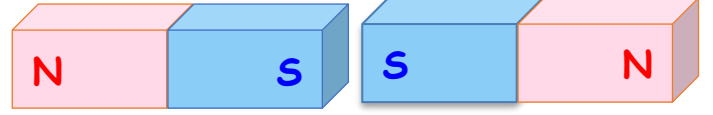
İki mıknatıs birbirini çekmektedir.



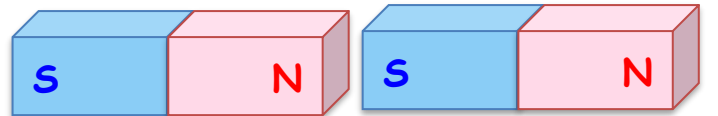
İki mıknatıs birbirini çekmektedir.



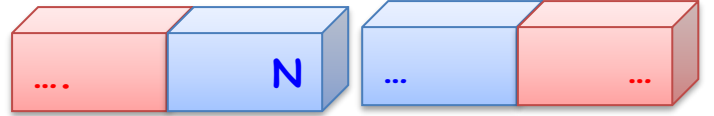
İki mıknatıs birbirini çekmektedir.



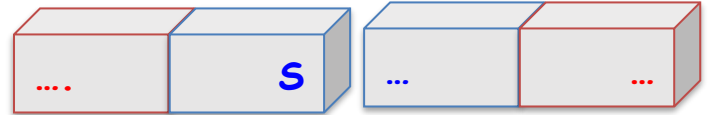
İki mıknatıs birbirini .....  
Çünkü .....



İki mıknatıs birbirini .....  
Çünkü .....



İki mıknatıs birbirini itmektedir.



İki mıknatıs birbirini itmektedir.



İki mıknatıs birbirini itmektedir.



İki mıknatıs birbirini itmektedir.